

# Svarark

Matematik trin 1 - Øresundsbron - maj 2002

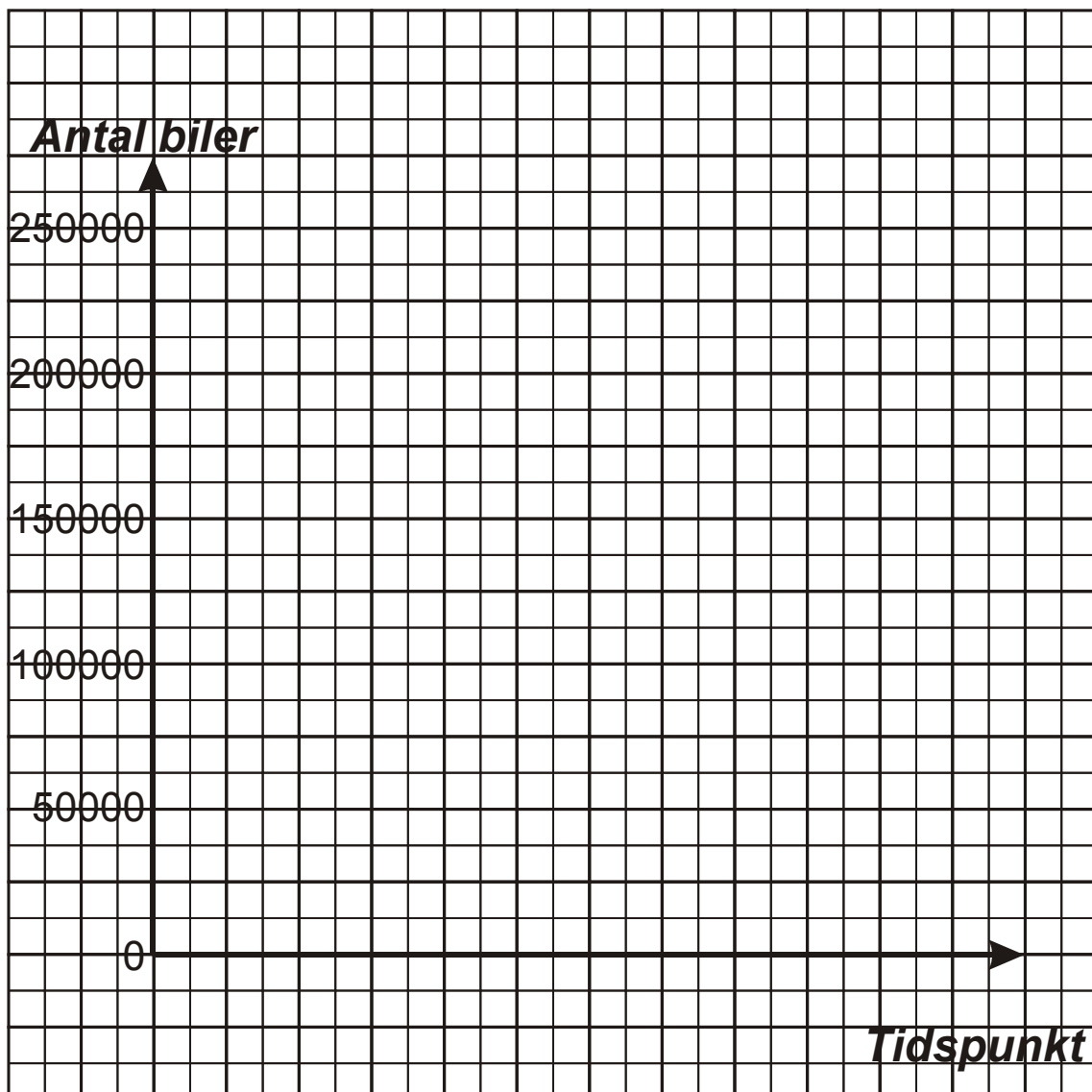
Navn \_\_\_\_\_ Kursistnr. \_\_\_\_\_

VUC \_\_\_\_\_

## 2. Biler på Øresundsbron

Brug eventuelt nedenstående til løsning af opgave 2.2.

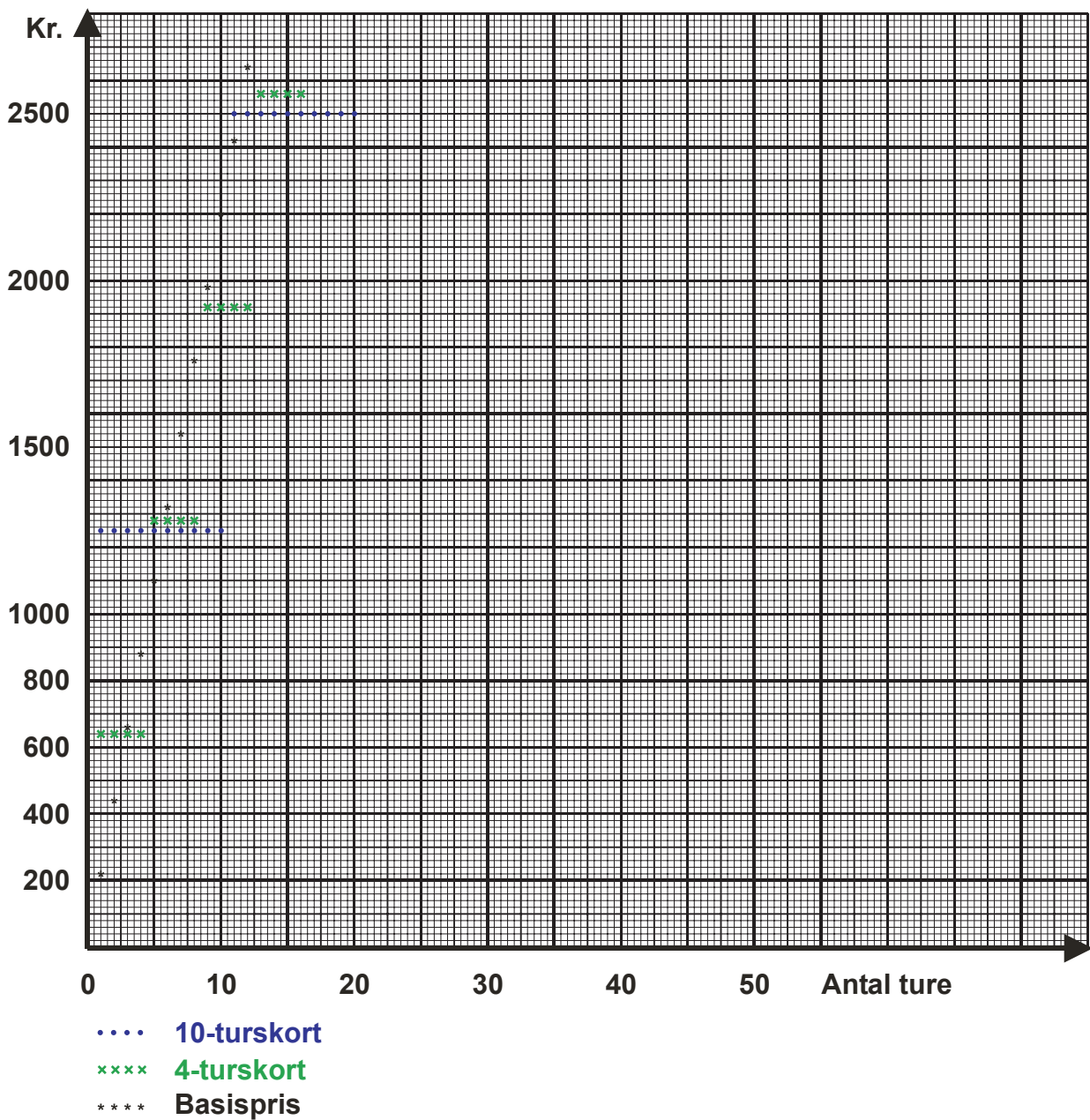
Din løsning kan også afleveres på almindeligt eller mm-papir.



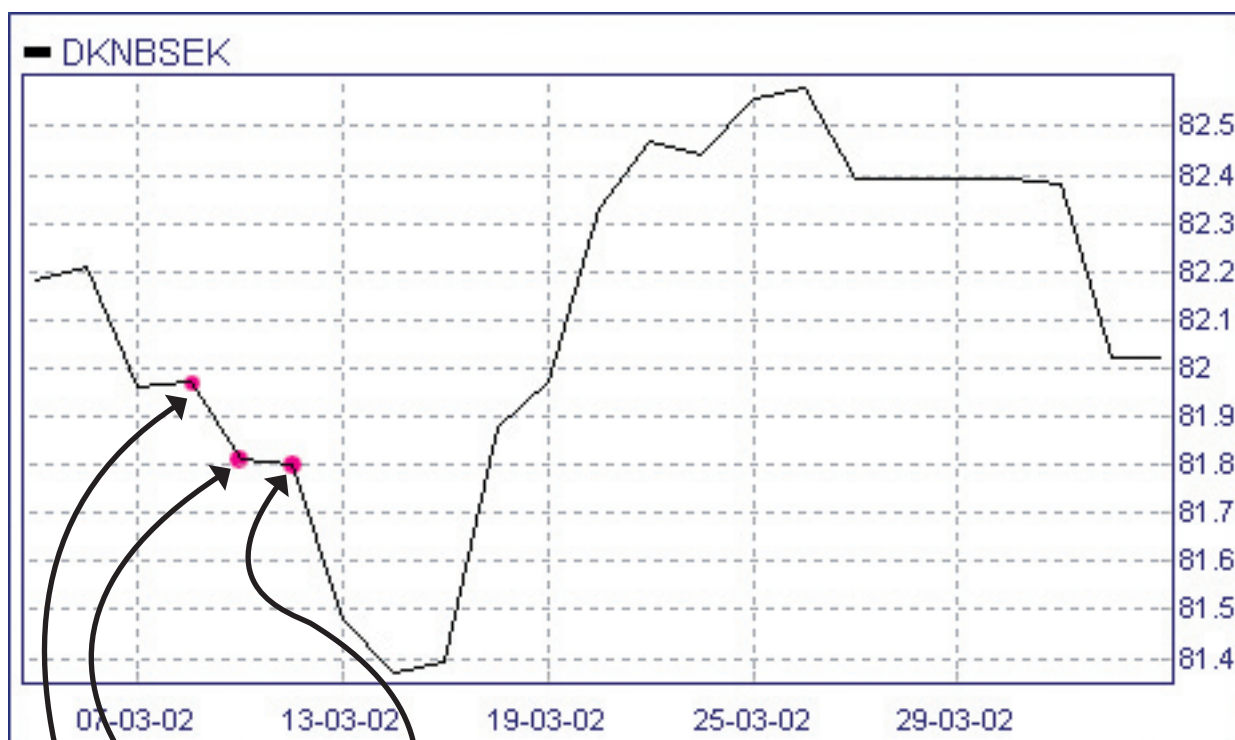
### 3. Betaling over broen

3 ♦ 3

Indtegn grafen for priser for en brobizzkunde.



## 4. Veksling af penge



Marts 2002						
Mandag		4	11	18	25	
Tirsdag		5	12	19	26	
Onsdag		6	13	20	27	
Torsdag		7	14	21	28	
Fredag	1	8	15	22	29	
Lørdag	2	9	16	23	30	
Søndag	3	10	17	24	31	

Grafen ovenfor viser kursen for svenske kroner i marts 2002. Kursen noteres kun på hverdage. De markerede punkter på kurven viser kursen på dagene 8., 11. og 12. marts.

Eksempelvis kan kursen den 12. marts aflæses til ca. 81,8. I skalaen til højre står 81,8, men det betyder altså 81,8.

4 ♦ 4

Dato	Kurs
12. marts	81,8
29. marts	
18. marts	
21. marts	

## 5. Fremtidens bolig

5 ♦ 4

Brug eventuelt denne side til tegning af vestsidens skrå vindue.

